

23. Американская река, в названии которой есть три ноты, – ...  
А) Миссури. Б) Миссисипи. В) Рио-Гранде. Г) Парана. Д) Укаяли.

24. Расположите масштабы карт в порядке возрастания детальности изображения на них земной поверхности.

А) 1234. Б) 1342. В) 1243. Г) 4321. Д) 3421.

- |                 |
|-----------------|
| 1) 1 : 1000 000 |
| 2) 1 : 100 000  |
| 3) 1 : 1000     |
| 4) 1 : 10000    |

25. Родиной кактусов являются ... пустыни.  
А) африканские. Б) азиатские. В) североамериканские.  
Г) австралийские. Д) европейские.

26. Горная порода магматического происхождения – это ...  
А) песчаник. Б) гнейс. В) мрамор. Г) пемза. Д) каменный уголь.

27. Про эту маленькую страну говорят, что Бог создал море, а ее жители – берега. Большая часть ее территории ограждена от моря плотинами; 2000 ветряных мельниц играют роль специальных насосов, откачивающих воду. Речь идет о ...  
А) Нидерландах. Б) Дании. В) Ирландии.  
Г) Норвегии. Д) Франции.

28. Разнообразие морских организмов уменьшается ...  
А) от дна океанов и морей к поверхности.  
Б) от береговой зоны к открытой части океана и от поверхности океана ко дну.  
В) от высоких широт к низким и от дна океана к его поверхности.  
Г) от открытой части океанов к прибрежным областям.  
Д) на побережье материков, омываемых морскими течениями, и при повышении солености воды.

29. Факторы, влияющие на количество высотных поясов в горах, – ...  
А) географическая широта и высота гор.  
Б) происхождение и высота гор.  
В) относительная высота гор и особенности растительности.  
Г) экспозиция склонов и происхождение гор.  
Д) изменение почв и растительности с высотой.

30. Для субтропического климатического пояса Южной Америки характерно ...  
А) господство в течение года умеренных воздушных масс.  
Б) распространение средиземноморского климата на западном побережье материка.  
В) формирование климата береговых пустынь (гаруа) на западном побережье материка.  
Г) значительное количество осадков (2000-3000 мм) в течение года и равномерный ход температуры воздуха (28-29°C).  
Д) распространение субтропического влажного типа климата на западе Бразильского плоскогорья.

Организатор конкурса – Общественное объединение «Белорусская ассоциация «Конкурс».

220045, г. Минск, ул. Яна Чечота, 16 тел. (017) 375 66 17, 375 36 23

e-mail: info@bakonkurs.by http://www.bakonkurs.by/

Унитарное предприятие «Издательский центр БА «Конкурс». Заказ 47. Тираж 8600 экз. Минск. 2020 г.

## Конкурс по географии «ГЛОБУСЁНОК-2020»

Среда, 28 октября 2020 г.



- продолжительность работы над заданием 1 час 15 минут;
- на каждый вопрос имеется только один правильный ответ;
- на старте участник получает авансом 30 баллов;
- каждый правильный ответ оценивается тремя, четырьмя или пятью баллами; количество баллов, которые набирает участник, отвечая на вопрос правильно, определяется сложностью вопроса; сложность вопроса определяется по количеству участников, правильно ответивших на него; 10 наиболее лёгких вопросов оцениваются по 3 балла, 10 наиболее трудных вопросов – по 5 баллов, остальные 10 вопросов – по 4 балла;
- неправильный ответ оценивается четвертью баллов, предусмотренных за данный вопрос, и засчитывается со знаком «минус»;
- за вопрос, оставшийся без ответа, баллы не прибавляются и не вычитаются;
- максимальное количество баллов, в которое оценивается задание конкурса, – 150;
- самостоятельная и честная работа над заданием – главное требование организаторов к участникам конкурса;
- участнику запрещается пользоваться словарями, справочниками, учебниками, конспектами, иными письменными или печатными материалами, электронными носителями информации и устройствами связи; недопустимо обмениваться информацией с другими участниками; ручка, черновик, карточка и задание – это всё, что нужно для работы участнику;
- объём и содержание задания не предполагают его полного выполнения; в задании допускаются вопросы, не входящие в программу обучения;
- после окончания конкурса листок с заданием и черновик участник забирает с собой и сохраняет их до подведения окончательных итогов;
- результаты участников размещаются на сайте <http://www.bakonkurs.by/> через 1–1,5 месяца после проведения конкурса.

### Задание для учащихся 6–7 классов

1. В каком городе нашей страны расположен один из флагманов белорусского машиностроения, логотип которого (см. рис.) известен далеко за пределами Беларуси?

А) Могилев. Б) Молодечно. В) Лида.  
Г) Минск. Д) Витебск.



2. На территории какой области нашей страны расположен географический центр Беларуси?

А) Минской. Б) Витебской. В) Гомельской.  
Г) Гродненской. Д) Могилевской.

3. Укажите название ближайшего к нашей стране моря, обозначенного на картосхеме цифрой 1.

А) Черное. Б) Балтийское. В) Средиземное.  
Г) Азовское. Д) Северное.



4. С какими областями Беларуси граничит Украина?

А) Витебской и Могилевской. Б) Брестской и Гомельской.  
В) Гродненской и Брестской. Г) Могилевской и Гомельской.  
Д) Гродненской и Витебской.

5. В каком направлении должен лететь самолет, находящийся на взлетной полосе аэродрома на мысе Игольный, чтобы оказаться на «Африканском роге»?

- А) На север.      Б) На запад.      В) На северо-восток.  
Г) На юго-восток.      Д) На северо-запад.

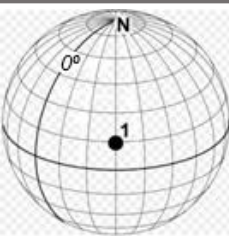


6. Какое из перечисленных государств не расположено одновременно в двух частях света?

- А) Казахстан.      Б) Россия.      В) Египет.      Г) Турция.      Д) Украина.

7. В каких полушариях расположен географический объект, обозначенный точкой с цифрой 1 (см. рис.)?

- А) В южном и западном.      Б) В северном и восточном.  
В) В северном и западном.      Г) В южном и восточном.  
Д) В северном и южном.

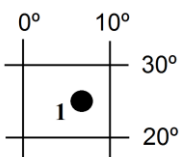


8. Каково расстояние между объектами на географической карте масштаба 1:250000, если на местности это расстояние составляет 150 км?

- А) 6 см.      Б) 37,5 см.      В) 60 см.      Г) 3,8 см.      Д) 40 см.

9. С помощью фрагмента градусной сетки (см. рис) определите, на каком материке расположен объект, обозначенный точкой с цифрой 1.

- А) В Африке.      Б) В Австралии.      В) В Северной Америке.  
Г) В Южной Америке.      Д) В Евразии.



10. Какой стране принадлежат известные бренды (см. рис.) по выпуску электроники?

- А) Республике Корея.      Б) Японии.      В) США.      Г) Индии.      Д) Великобритании.



11. Река Припять является притоком ...

- А) Западной Двины.      Б) Немана.      В) Днепра.      Г) Вислы.      Д) Дуная.

12. Укажите столицу государства, название которого происходит от термина «экватор».

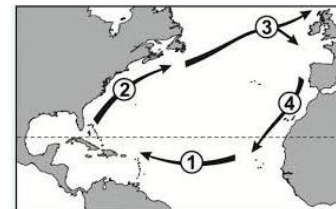
- А) Бразилиа.      Б) Каракас.      В) Лима.      Г) Кито.      Д) Сантьяго.

13. Выберите вариант ответа, в котором правильно показана очередность слоев атмосферы по направлению снизу вверх.

- А) Термосфера → стратосфера → тропосфера → мезосфера → экзосфера.  
Б) Тропосфера → стратосфера → мезосфера → экзосфера → термосфера.  
В) Тропосфера → стратосфера → мезосфера → термосфера → экзосфера.  
Г) Стратосфера → термосфера → мезосфера → термосфера → экзосфера.  
Д) Экзосфера → термосфера → мезосфера → стратосфера → тропосфера.

14. Какой цифрой на картосхеме обозначено холодное течение?

- А) 1.      Б) 3.      В) 2.      Г) 4.      Д) 1 и 2.



15. Выберите из списка название страны, численность населения в которой меньше, чем численность населения города Минска.

- А) Россия.      Б) Чехия.      В) Эстония.      Г) Украина.      Д) Польша.

16. Отгадай загадку.

- А) Полуостров.      Б) Перешеек.  
В) Остров.      Г) Коса.  
Д) Озеро.

*Слог первый – морское название востока  
Второй же – в земле вырывают глубоко,  
А целое можно узнать без труда:  
Его окружает сплошная вода.*

17. Какое море Тихого океана всем сообщает, что в нем обитают удивительные живые организмы – величайшие архитекторы Земли?

- А) Коралловое.      Б) Филиппинское.      В) Южно-Китайское.  
Г) Саргассово.      Д) Охотское.

18. Из зрелых плодов этого травянистого многолетнего растения на стебле формируется громадная кисть, которая иногда может достигать массы 50 кг и длины до 2 м. Местное население Америки еще до путешествия Христофора Колумба употребляло в пищу его плоды. Для жителей тропиков они имеют такое важное пищевое значение, как, например, картофель для населения умеренных широт. О каком растении идет речь?

- А) Тыква.      Б) Банан.      В) Какао.  
Г) Финиковая пальма.      Д) Хлебное дерево.

19. Море, в котором ловят рыбу жители трех частей света, – ...

- А) Средиземное.      Б) Норвежское.      В) Карибское.      Г) Карское.      Д) Красное.

20. Растение африканских оазисов, о котором говорят: «Королева пустыни, она всегда держит голову в огне, а ноги в воде», – ...

- А) гранат.      Б) баобаб.      В) финиковая пальма.  
Г) зонтичная акация.      Д) спенифлекс.

21. Облака в виде куполов, бугров, башен ярко-белого цвета на высоте 2-5 км и более называют ...

- А) перистыми.      Б) слоистыми.      В) высоко-слоистыми.  
Г) кучевыми.      Д) перисто-слоистыми.

22. Растение одной из африканских пустынь, которое образно называют «осьминогим пустыни», – ...

- А) карагана.      Б) вельвичия.      В) баобаб.  
Г) спенифлекс.      Д) верблюжья колючка.