

26. Деятельность ученого и его научные труды посвящены исследованию Сибири. Он изучал геологическое строение, рельеф Иркутской губернии и составил первую геологическую карту её южной части. Совершил путешествие по рекам Лене, Оленёку и Нижней Тунгуске, изучал озеро Байкал и часть бассейна реки Селенги. Организовал большую экспедицию от Якутска через горные хребты на реку Колыму, во время которой погиб. Его именем названы система горных хребтов в Северо-Восточной Сибири и хребет в Забайкалье. О каком ученом, нашем соотечественнике, идет речь?

- А) Игнат Домейко.                      Б) Отто Шмидт.                      В) Иван Черский.  
Г) Аркадий Смолич.                      Д) Бенедикт Дыбовский.

27. Этот ветер представляет опасность для любителей парусного спорта, яхт и даже некоторых паромов, поскольку его сила достигает 7-8 баллов. Он появляется внезапно в ясную погоду. Этот сильный сухой холодный ветер господствует в Адриатическом, Ионическом и Эгейском морях. Название этого ветра – ...

- А) Пассат.                      Б) Зефир.                      В) Мельтеми.                      Г) Муссон.                      Д) Сирокко.

28. Во время своего кругосветного путешествия, проплывая по акватории одного из заливов, Фернан Магеллан написал в своем путевом дневнике: «Сегодня мы проплыли мимо шестой горы с востока на запад». Впоследствии, около этой горы был основан город, который, согласно одной из версий историков, получил своё название благодаря этой записи. На этой горе была заложена крепость, которая сейчас носит имя освободителя этой страны. О каком городе идет речь?

- А) Тенерифе.                      Б) Буэнос-Айресе.                      В) Каракасе.  
Г) Монтевидео.                      Д) Маниле.

29. Дно этого моря представляет собой глубокую котловину с крутыми склонами и слабо развитым шельфом. Средняя глубина моря – 3364 м, наибольшая глубина – 6220 м. Море целиком лежит в экваториальном климатическом поясе. Осадки заметно превышают испарение с поверхности моря. По разнообразию видов животных и растений это море не имеет себе равных в мире, а результаты исследований международной экспедиции позволили сделать предположение, что именно это море является древним центром, где возникли многие морские виды, которые распространились по другим регионам. В этом море живет кочевой народ – баджо, который пользуется дарами моря и редко пристает к берегу – только ради торговли или похорон. С XVI века название употреблялось как Целебесское море, также как и расположенный рядом остров. О каком море идет речь?

- А) Сулавеси.                      Б) Андаманское.                      В) Карибское.                      Г) Красное.                      Д) Фиджи.

30. Установите соответствие «местное название природной зоны – город, находящийся в её пределах»:

А) Маквис	Б) Финбош	В) Тугаи	Г) Чапараль	Д) Скрэб
1) Аделаида	2) Чичуауа	3) Кейптаун	4) Аральск	5) Аяччо

- А) А1 Б2 В3 Г4 Д5.                      Б) А3 Б1 В2 Г5 Д4.                      В) А4 Б5 В3 Г1 Д2.  
Г) А5 Б3 В4 Г2 Д1.                      Д) А5 Б4 В3 Г2 Д1.

Конкурс организован и проводится Общественным объединением «Белорусская ассоциация «Конкурс» совместно с Академией последилового образования при поддержке Министерства образования Республики Беларусь.

220045, г. Минск, ул. Яна Чечота, 16  
тел. (017) 372 36 17, 372 36 23  
e-mail: info@bakonkurs.by  
http://www.bakonkurs.by/

ОО «БА «Конкурс». Заказ 104. Тираж 10200 экз. Минск. 2017 г.



## Конкурс по географии «ГЛОБУСЁНОК-2017»

Среда, 18 октября 2017 г.



- продолжительность работы над заданием 1 час 15 минут;
- на каждый вопрос имеется только один правильный ответ;
- на старте участник получает авансом 30 баллов;
- каждый правильный ответ оценивается тремя, четырьмя или пятью баллами; количество баллов, которые набирает участник, отвечая на вопрос правильно, определяется сложностью вопроса; сложность вопроса определяется по количеству участников, правильно ответивших на него; 10 наиболее лёгких вопросов оцениваются по 3 балла, 10 наиболее трудных вопросов – по 5 баллов, остальные 10 вопросов – по 4 балла;
- неправильный ответ оценивается четвертью баллов, предусмотренных за данный вопрос, и засчитывается со знаком «минус»;
- за вопрос, оставшийся без ответа, баллы не прибавляются и не вычитаются;
- максимальное количество баллов, в которое оценивается задание конкурса, – 150;
- самостоятельная и честная работа над заданием – главное требование организаторов к участникам конкурса; невыполнение этого требования ведёт к дисквалификации участников и учреждений образования;
- участнику запрещается пользоваться словарями, справочниками, учебниками, конспектами, иными письменными или печатными материалами, электронными носителями информации и устройствами связи; недопустимо обмениваться информацией с другими участниками; ручка, черновик, карточка и задание – это всё, что нужно для работы участнику;
- объём и содержание задания не предполагают его полного выполнения; в задании допускаются вопросы, не входящие в программу обучения;
- после окончания конкурса листок с заданием и черновик участник забирает с собой;
- результаты участников размещаются на сайте <http://www.bakonkurs.by/> через 1,5–2 месяца после проведения конкурса.

### Задание для учащихся 10-11 классов

1. Из какой горной породы был построен известный объект всемирного наследия ЮНЕСКО?

- А) Известняк.                      Б) Мрамор.                      В) Гранит.  
Г) Гипс.                      Д) Пемза.



2. Найдите ошибку в перечне соответствий «полуостров– государство».

- А) Юкатан – Мексика.                      В) Лабрадор – США.  
Б) Скандинавский – Швеция.                      Д) Пиренейский – Португалия.  
Г) Кейп-Йорк – Австралийский Союз.

3. Какой из вулканов располагается южнее других?

- А) Эребус.                      Б) Гекла.                      В) Везувий.                      Г) Орисаба.                      Д) Котопахи.

4. Укажите море, к бассейну которого относится единственная река, вытекающая из самого глубокого озера на Земле.

- А) Берингово.                      Б) Карское.                      В) Лаптевых.  
Г) Восточно-Китайское.                      Д) Восточно-Сибирское.

5. Выберите географический термин, характеризующий результат вулканической деятельности.


- А) Террикон.                      Б) Озы.                      В) Марши.                      Г) Кальдера.                      Д) Польдер.

6. Укажите порт, расположенный почти в 700 км от морского побережья, но принимающий морские суда.

- А) Игарка. Б) Роттердам. В) Иокогама. Г) Мурманск. Д) Норильск.

7. Разгадайте ребус и выберите правильный вариант ответа.

- А) Минерал. Б) Материк. В) Долмит.  
Г) Долгота. Д) Миграция.



8. Совершая круиз по этому морю, вы можете посетить острова, являющиеся колониями или заморскими территориями четырех государств.

- А) Балтийское. Б) Средиземное. В) Карибское. Г) Коралловое. Д) Тасманово.

9. На государственном флаге этой страны изображены зеленый гремучник, обыкновенная каракара, кактус нопаль, озеро Тескоко с островом, ветвь вечнозеленого каменного дуба и лавра. Это страна – ...

- А) Аргентина. Б) Мексика. В) Ливан. Г) Нигерия. Д) Боливия.

10. Выберите столицу государства, территорию которого не пересекает экватор.

- А) Киншаса. Б) Додома. В) Кампала. Г) Джакарта. Д) Кито.

11. В Канаде и Бельгии их по два, а в Швейцарии и Сингапуре – по четыре. О чем идет речь?

- А) о зданиях парламента. Б) о государственных языках. В) о премьер-министрах.  
Г) о крупных морских портах. Д) о национальных парках.

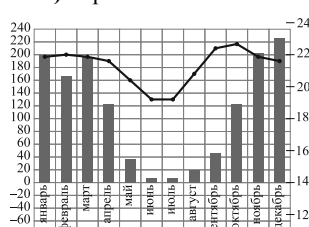
12. Выберите вариант ответа, в котором обе формы рельефа образовались благодаря одному фактору рельефообразования.

- А) Карьеры и моренные холмы. Б) Речные долины и балки.  
Г) Пещеры и овраги. Д) Терриконы и друмлины.

13. Определите город по предложенной климатограмме.

- А) Кейптаун. Б) Будапешт. В) Минск.  
Г) Бразилиа. Д) Оттава.

В) Барханы и камы.



14. Туристы из Беларуси хотят своими глазами увидеть уникальный водопад Виктория на реке Замбези. Какую африканскую страну им необходимо для этого посетить?

- А) Танзания. Б) Зимбабве. В) Египет. Г) Алжир. Д) ЮАР.

15. Одинаковую форму правления и государственного устройства имеют ...

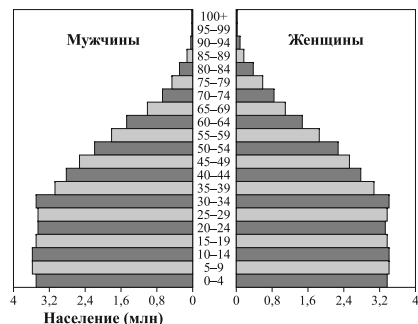
- А) Норвегия и Исландия. Б) Бразилиа и Германия. В) Швеция и Финляндия.  
Г) Индия и Китай. Д) США и Япония.

16. В каком заливе Тихого океана зафиксированы самые высокие приливы?

- А) Аляска. Б) Пенжинская губа.  
В) Кука. Г) Монтерей. Д) Чирики.

17. Выберите государство, демографическую ситуацию которого характеризует представленная пирамида.

- А) Бельгия. Б) Турция. В) Беларусь.  
Г) Афганистан. Д) ЮАР.



18. Это государство было основано великим средневековым завоевателем, но только в прошлом веке провозгласило свою независимость. Жители этой страны испытывают недостаток водных ресурсов. Обычная адресная почтовая система не вполне приемлема здесь из-за в основном кочевого образа жизни местного населения. Существует мнение, что местный традиционный кисломолочный напиток очень полезен для здоровья человека. Столица этого государства – ...

- А) Мехико. Б) Каир. В) Сантьяго. Г) Астана. Д) Улан-Батор.

19. Самолет вылетел из точки пересечения нулевого меридиана и экватора в западном направлении. В каком секторе окажется самолет, если пролетит вдоль экватора 400 км?



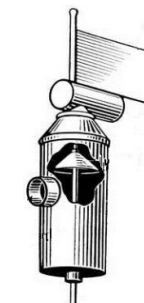
- А) в секторе А. Б) в секторе Б. В) в секторе В. Г) в секторе Г. Д) в секторе Д.

20. В какой области географии себя проявил Абрахам Ортелиус?

- А) Картография. Б) Геология. В) Океанография.  
Г) Метереология. Д) Демография.

21. Для чего служит прибор, изображенный на рисунке?

- А) Для измерения глубины водоемов.  
Б) Для определения углов и расстояний.  
В) Для измерения давления в горной местности.  
Г) Для определения количества снега, приносимого ветром.  
Д) Для определения силы ветра.



22. Выберите названия животных, которые обитают в естественных условиях только в Северном полушарии: поморник, капибара, пингвин Гумбольдта, кондор, броненосец, магот, очковый медведь, обезьяна-ревун, утконос, россомаха.

- А) Капибара и броненосец. Б) Кондор и поморник.  
В) Россомаха и магот. Г) Очковый медведь и обезьяна-ревун.  
Д) Пингвин Гумбольдта и утконос.

23. Какие страны не имеют выхода к Мировому океану и граничат только с государствами, также не имеющими выхода к Мировому океану?

- А) Венгрия и Лихтенштейн. Б) Узбекистан и ЦАР. В) Лихтенштейн и Узбекистан.  
Г) Австрия и Люксембург. Д) Швейцария и Венгрия.

24. В настоящее время в мире всего три государства-анклава. Выберите вариант, в котором правильно перечислены эти страны.

- А) Сан-Марино, Катар, Кипр. Б) Монако, Ватикан, Свазиленд.  
В) Лесото, Ватикан, Бруней. Г) Свазиленд, Сан-Марино, Мальта.  
Д) Ватикан, Лесото, Сан-Марино.

25. Выберите логотип международной организации, основной целью которой является либерализация международной торговли и регулирование торгово-политических отношений государств-участников.

- А) Б) В) Г) Д)