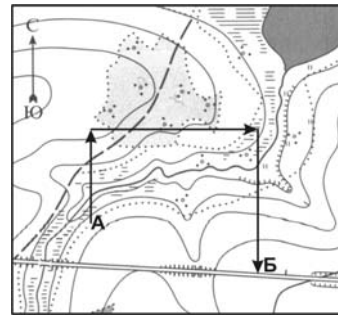


23. (3 балла) На карте изображён маршрут искателей сокровищ. Что показывал компас, когда группа передвигалась из пункта А в пункт Б?

- А. Север—Юг—Восток. Б. Юг—Север—Запад.
 В. Север—Восток—Юг. Г. Юг—Запад—Север.
 Д. Запад—Север—Восток.



24. (3 балла) Где города без домов, реки без воды, леса без деревьев?

- А. В пустыне. Б. В Антарктиде. В. В тундре.
 Г. На карте. Д. На о. Гренландия.

25. (5 баллов) Где можно установить палатку так, чтобы все её стороны были повёрнуты на юг?

- А. На экваторе. Б. На Северном полюсе. В. На Южном полюсе.
 Г. В Украине. Д. В Беларуси.

26. (5 баллов) В каком направлении нужно двигаться Винни-Пуху и его друзьям, которые находятся в Минске, чтобы самым кратким путём попасть на побережье Атлантического океана?

- А. На юг. Б. На север. В. На запад. Г. На восток. Д. На северо-восток.

27. (5 баллов) Первое кругосветное путешествие совершил более четырёхста лет назад мореплаватель ...

- А. Христофор Колумб. Б. Фернан Магеллан. В. Васко да Гама.
 Г. Франсиско Писарро. Д. Джеймс Кук.

28. (5 баллов) На карте указан её масштаб — 1 : 25 000. Это означает, что 1 см на карте соответствует расстоянию на местности, равное...

- А. 2,5 км. Б. 250 м. В. 25 м. Г. 25 км. Д. 250 км.

29. (8 баллов) Рассудите, кто из друзей прав в споре.

Винни-Пух: Друзья, давайте отправимся в путешествие на Северный полюс! Там круглый год светит солнце и пчёлы всё время собирают мёд.

Ослик Иа: Но там нам будет жарко!

Пятачок: Нет, там холодно, я могу простудиться. А ещё я боюсь белых медведей.

Сова: Я буду наслаждаться темнотой, ведь полярная ночь длится целых полгода.

- А. Сова и Пятачок. Б. Пятачок и Винни-Пух. В. Ослик и Винни-Пух.
 Г. Винни-Пух. Д. Все правы.

30. (8 баллов) На сколько дней отличается длительность зимы в северном и южном полушариях в 2005 году согласно календарным временам года?

- А. На 2 дня. Б. На 4 дня. В. На 1 день. Г. На 3 дня. Д. На 5 дней.

Конкурс в Республике Беларусь организован и проводится Общественным объединением «Белорусская ассоциация «Конкурс» совместно с Академией последиplomного образования при поддержке Министерства образования Республики Беларусь.



Задания украинско-белорусского природоведческого конкурса

«КОЛОСОК — 2005»

3 — 4 классы

Юный друг! Поздравляем тебя с началом конкурса и желаем успеха. Приготовь для записей в карточке участника черную или темно-синюю ручку.

Прежде чем приступить к выполнению заданий, помни:

- задания нужно выполнять самостоятельно, без помощи учителя;
- нельзя пользоваться учебниками, книжками и калькулятором;
- среди предложенных вариантов ответов есть только один правильный;
- срок выполнения заданий — 75 минут.

Будь внимательным! Тебе по силам найти все правильные ответы.

ЛОГИКА И СООБРАЗИТЕЛЬНОСТЬ

1. (3 балла) Если: май — 5, июль — 7, февраль — 2, тогда: октябрь — ?
 А. 4. Б. 10. В. 6. Г. 9. Д. 3.

2. (3 балла) Если: РОСТОК — 126 = СТО, НАРЦИСС — 1247 = РИС,
 НАГРАДА — 127 = ГРАД, тогда: КАРАМЕЛЬКА — 12678 = ?
 А. Рамка. Б. Мак. В. Ель. Г. Рак. Д. Марка.

3. (3 балла) Винни-Пух, Кролик, Пятачок и Ослик Иа играли в футбол. Каждый из них забил разное количество голов. Кролик забил на один гол меньше, чем Пятачок, но на два гола больше, чем Винни-Пух. Ослик Иа забил меньше всех голов. Кто из них на третьем месте по количеству забитых голов?

- А. Ослик Иа. Б. Винни-Пух. В. Пятачок. Г. Кролик. Д. Никто.

4. (3 балла) Какое слово после двоеточия лишнее?


Природоведение: род, повод, вид, пир, невод, вода, ров, пиво.

- А. Повод. Б. Вода. В. Пиво. Г. Невод. Д. Вид.


5. (5 баллов) Если: ОЛИМПИАДА = 5 + 4 = 9. КОНКУРС = 2 + 5 = 7.
 тогда: КОЛОСОК = ? + ? = ?

- А. 4 + 3 = 7. Б. 3 + 4 = 7. В. 3 + 5 = 8. Г. 4 + 4 = 8. Д. 5 + 4 = 9.

6. (5 баллов) Какое Зернышко нужно поставить вместо вопросительного знака, чтобы сохранилась указанная закономерность?



7. (5 баллов) Каждому рисунку соответствует цифровой код, размещённый под ним. Каким цифровым кодом обозначена бабочка?



(2, 4, 0)



(3, 3, 5)



(8, 3, 0)



(3, 6, 2)



(?, ?, ?)

А. (2, 1, 4). Б. (4, 1, 2). В. (2, 4, 1). Г. (2, 2, 4). Д. (2, 4, 2).

8. (5 баллов) Какой из рисунков лишний?



А



Б



В



Г



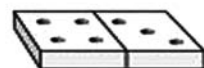
Д

9. (8 баллов) Слова „ВОРОНА”, „СОРОКА”, „МОЛОКО”, „РУКАВА”, „КОРОВА” зашифрованы символами так, что каждый символ соответствует одной некоторой букве, и одинаковые буквы соответствуют одинаковым символам. Какое слово зашифровано под номером (5)?

(1) ↑ ↓ } ↓ ↑ ↓
 (2) ↓ ↓ } ↓ ↑ ↓
 (3) } ↑ ↑ ↓ ↑ ↓
 (4) ↑ ↓ } ↓ ↓ ↓
 (5) ↑ ↓ } ↓ ↑ ↓

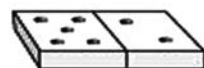
А. ВОРОНА. Б. СОРОКА. В. МОЛОКО. Г. РУКАВА. Д. КОРОВА.

10. (8 баллов) Какие числа нужно разместить под последним домино?



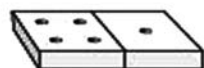
7,1

А. 6, 2.



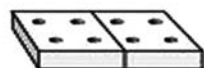
7,3

Б. 8, 2.



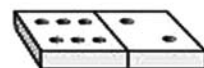
5,3

В. 6, 0.



8,0

Г. 8, 3.



?,?

Д. 8, 4.

ЖИВАЯ ПРИРОДА

11. (3 балла) Какой гриб съедобный?

А. Мухомор. Б. Трутовик. В. Белый гриб. Г. Бледная поганка. Д. Пеницилл.

12. (3 балла) Группа туристов без компаса заблудилась в лесу. Один умник вспомнил, что сориентироваться поможет мох на стволах деревьев. С какой стороны дерева чаще всего растёт мох?

А. С северной. Б. С восточной. В. С южной.
 Г. С западной. Д. Мох растёт вокруг ствола.

13. (3 балла) Что из перечисленного не вызовет лесной пожар?

А. Непогашенный костер. Б. Непотушенная спичка. В. Брошенный окурок.
 Г. Тлеющие пыжи охотников. Д. Забытая бумага.

14. (3 балла) Крот помог белочке запастись орешками на зиму. Но он собирал их в земле, потому что не умеет лазить по деревьям. Какие же орешки растут в земле?

А. Кокосовые. Б. Лещина. В. Грецкие. Г. Арахис. Д. Фисташки.



15. (5 баллов) Выбери священное животное древнего Египта и нашего домашнего любимца.

А. Конь Б. Собака В. Кот Г. Мышка Д. Попугай

16. (5 баллов) У птиц, в отличие от других животных, есть ...

А. крылья. Б. клюв. В. лапы. Г. хвост. Д. перья.

17. (5 баллов) Какое растение ядовито для людей и животных?



А. Подорожник.



Б. Сныть.



В. Белена.



Г. Цикорий.



Д. Одуванчик.

18. (5 баллов) Что выберет голодный ёжик?

А. Яблочко. Б. Грибочек. В. Червячка. Г. Грушу. Д. Орешек.

19. (8 баллов) Капитан Врунгель решил взять в путешествие для своей команды побольше перловой крупы, которую очень любил. Какое растение используют для приготовления этой крупы?

А. Пшеницу. Б. Ячмень. В. Рожь.
 Г. Гречиху. Д. Просо.

20. (8 баллов) Кукушка чрезвычайно полезна для лесов, потому что у нее хороший аппетит. Она ...

А. поедает и тем самым регулирует количество мелких птиц.
 Б. поедает гусениц непарного и кольчатого шелкопрядов, которых не едят другие птицы.
 В. поедает большое количество вредных грызунов.
 Г. поедает и при этом разносит семена деревьев, и тем самым насаживает лес.
 Д. питается кусачими осами.

КАРТЫ И ПУТЕШЕСТВИЯ

21. (3 балла) Выберите предмет, с помощью которого можно совершить кругосветное путешествие, не выходя из дома.



А



Б



В



Г



Д

22. (3 балла) Материк, на котором нет рек, это – ...

А. Африка. Б. Евразия. В. Австралия. Г. Антарктида. Д. Северная Америка.